

Abstracto Quantum

TIEMPO: 20 MINUTOS

En la primera fila encontramos cinco palabras, y debajo de ellas y escritas con símbolos están las cinco palabras pero en otro orden.

BAJAR	CABER	METER	MIRLO	TODOS
†⊗⊗⊗*	◆⊗<⊗*	†⊗*☑☑	▣⊗◆⊗*	⊗☑☑☑)

¿Qué símbolo corresponde a la letra A? A) ☑ B) ⊗ C) ⊗ D) ☑

Después de estudiar la relación entre palabras y símbolos, el orden y la correspondencia es este:

†⊗⊗⊗* METER	◆⊗<⊗* BAJAR	†⊗*☑☑ MIRLO	▣⊗◆⊗* CABER	⊗☑☑☑) TODOS
----------------	----------------	----------------	----------------	----------------

La solución es ⊗, y este símbolo tiene delante la letra "B", que es la opción que habría que marcar.

Hay que tener en cuenta que la relación entre símbolos y letras cambia en cada ejercicio.

1.- Según el cuadro qué símbolo representa la H

ATRÁS	FAGOT	heder	JUGAR	PRESO
😊👋🧠 👋🔔	💻👋✈️ 💧	†<⊗☠️🔔	♊☠️🕒 ♊	☠️♊🔔 ☠️✈️

a) 💻 b) 😊 c) † d) ♊

2.- Según el cuadro qué símbolo representa la R

ATRÁS	FAGOT	heder	JUGAR	PRESO
😊👋🧠 👋🔔	💻👋✈️ 💧	†<⊗☠️🔔	♊☠️🕒 ♊	☠️♊🔔 ☠️✈️

a) 💧 b) ♊ c) 🔔 d) ✈️

3.- Según el cuadro qué símbolo representa la T

ATRÁS	FAGOT	heder	JUGAR	PRESO
😊👋🧠 👋🔔	💻👋✈️ 💧	†<⊗☠️🔔	♊☠️🕒 ♊	☠️♊🔔 ☠️✈️

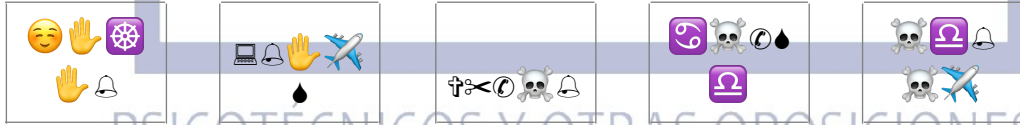
a) 💧 b) ♊ c) 🔔 d) ✈️

4.- Según el cuadro qué símbolo representa la O

Abstracto Quantum

TIEMPO: 20 MINUTOS


ATRÁS	FAGOT	HEDER	JUGAR	PRESO
-------	-------	-------	-------	-------



- a) b) c) d)

5.- Según el cuadro qué símbolo representa la S

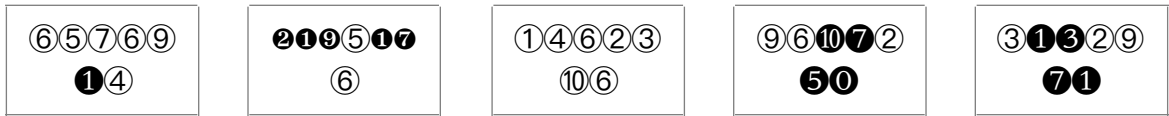
ATRÁS	FAGOT	HEDER	JUGAR	PRESO
-------	-------	-------	-------	-------



- a) b) c) d)

6.- Según el cuadro qué simbolo representa la A

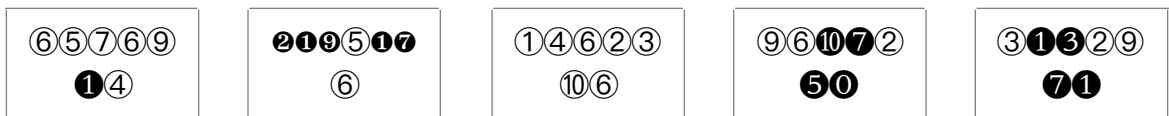
BAÑISTA	SEPTIMO	GAZNATE	CREIBLE	ENYESAR
---------	---------	---------	---------	---------



- a) ① b) ① c) ④ d) ⑩

7.- Según el cuadro qué simbolo representa la T

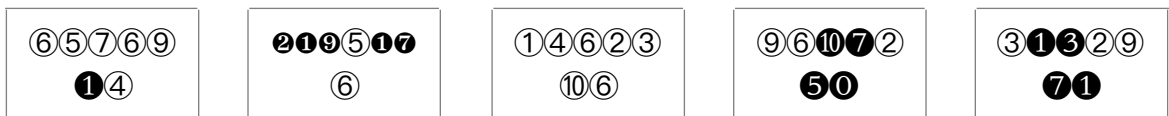
BAÑISTA	SEPTIMO	GAZNATE	CREIBLE	ENYESAR
---------	---------	---------	---------	---------



- a) ⑦ b) ⑩ c) ⑦ d) ⑥

8.- Según el cuadro qué simbolo representa la Z

BAÑISTA	SEPTIMO	GAZNATE	CREIBLE	ENYESAR
---------	---------	---------	---------	---------



- a) ③ b) ⑦ c) ⑥ d) ⑨

9.- Según el cuadro qué simbolo representa la Ñ

BAÑISTA	SEPTIMO	GAZNATE	CREIBLE	ENYESAR
---------	---------	---------	---------	---------

Abstracto Quantum

TIEMPO: 20 MINUTOS

<p>6 5 7 6 9 1 4</p>	<p>2 1 9 5 1 7 6</p>	<p>1 4 6 2 3 10 6</p>	<p>9 6 10 7 2 5 0</p>	<p>3 1 3 2 9 7 1</p>
--------------------------	--------------------------	---------------------------	---------------------------	--------------------------

a) 3 b) 7 c) 6 d) 9

10.- Según el cuadro qué símbolo representa la Y

BAÑISTA	SEPTIMO	GAZNATE	CREIBLE	ENYESAR
<p>6 5 7 6 9 1 4</p>	<p>2 1 9 5 1 7 6</p>	<p>1 4 6 2 3 10 6</p>	<p>9 6 10 7 2 5 0</p>	<p>3 1 3 2 9 7 1</p>

a) 3 b) 7 c) 6 d) 9

11.- Según el cuadro qué símbolo representa la X

AMANSAR	EXHIBIR	COBALTO	NUESTRO	LASCIVO
<p>↔ → ↑ ↓ ↖ ↗ →</p>	<p>↔ ↑ ↖ ↗ ↘ ↙ →</p>	<p>↖ ↓ ↘ ↙ ↗ ↘ ↙ ↖ ↗ ↘ ↙</p>	<p>↓ ↘ ↙ ↗ ↘ ↙ ↗ ↘ ↙</p>	<p>↖ ↗ ↘ ↙ ↗ ↘ ↙ ↗ ↘ ↙</p>

a) ↖ b) ↗ c) ↘ d) ↙

12.- Según el cuadro qué símbolo representa la H

AMANSAR	EXHIBIR	COBALTO	NUESTRO	LASCIVO
<p>↔ → ↑ ↓ ↖ ↗ →</p>	<p>↔ ↑ ↖ ↗ ↘ ↙ →</p>	<p>↖ ↓ ↘ ↙ ↗ ↘ ↙ ↖ ↗ ↘ ↙</p>	<p>↓ ↘ ↙ ↗ ↘ ↙ ↗ ↘ ↙</p>	<p>↖ ↗ ↘ ↙ ↗ ↘ ↙ ↗ ↘ ↙</p>

a) ↖ b) ↗ c) ↘ d) ↙

13.- Según el cuadro qué símbolo representa la U

AMANSAR	EXHIBIR	COBALTO	NUESTRO	LASCIVO
<p>↔ → ↑ ↓ ↖ ↗ →</p>	<p>↔ ↑ ↖ ↗ ↘ ↙ →</p>	<p>↖ ↓ ↘ ↙ ↗ ↘ ↙ ↖ ↗ ↘ ↙</p>	<p>↓ ↘ ↙ ↗ ↘ ↙ ↗ ↘ ↙</p>	<p>↖ ↗ ↘ ↙ ↗ ↘ ↙ ↗ ↘ ↙</p>

a) ↖ b) ↗ c) ↘ d) ↙

14.- Según el cuadro qué símbolo representa la R

AMANSAR	EXHIBIR	COBALTO	NUESTRO	LASCIVO
<p>↔ → ↑ ↓ ↖ ↗ →</p>	<p>↔ ↑ ↖ ↗ ↘ ↙ →</p>	<p>↖ ↓ ↘ ↙ ↗ ↘ ↙ ↖ ↗ ↘ ↙</p>	<p>↓ ↘ ↙ ↗ ↘ ↙ ↗ ↘ ↙</p>	<p>↖ ↗ ↘ ↙ ↗ ↘ ↙ ↗ ↘ ↙</p>

a) ↖ b) → c) ↗ d) ↘

15.- Según el cuadro qué símbolo representa la V

Abstracto Quantum

TIEMPO: 20 MINUTOS

AMANSAR	EXHIBIR	COBALTO	NUESTRO	LASCIVO
↔→↑↓↖↗→	↔ ↑↖↗↘↙ →	↖↓↘↙↖↗↘↙	↓↘↙↖↗↘↙↖↗↘↙	↖↗↘↙↖↗↘↙↖↗↘↙

a) ↖ b) → c) ① d) ↗

16.- Según el cuadro qué símbolo representa la O

ROTONDA	BUDISMO	PROXIMO	CAPITAL	OBSCENO
①②④⑥⑧ ⑩④	④③⑤⑦⑨⑦ ④	③①⑨⑧⑤ ⑩④	②④⑤④⑦ ⑨⑩	⑦⑩①③⑤ ⑩①

a) ③ b) ④ c) ⑩ d) ①

17.- Según el cuadro qué símbolo representa la L

ROTONDA	BUDISMO	PROXIMO	CAPITAL	OBSCENO
①②④⑥⑧ ⑩④	④③⑤⑦⑨⑦ ④	③①⑨⑧⑤ ⑩④	②④⑤④⑦ ⑨⑩	⑦⑩①③⑤ ⑩①

a) ③ b) ④ c) ⑩ d) ①

18.- Según el cuadro qué símbolo representa la A

ROTONDA	BUDISMO	PROXIMO	CAPITAL	OBSCENO
①②④⑥⑧ ⑩④	④③⑤⑦⑨⑦ ④	③①⑨⑧⑤ ⑩④	②④⑤④⑦ ⑨⑩	⑦⑩①③⑤ ⑩①

a) ③ b) ④ c) ⑩ d) ①

19.- Según el cuadro qué símbolo representa la X

ROTONDA	BUDISMO	PROXIMO	CAPITAL	OBSCENO
①②④⑥⑧ ⑩④	④③⑤⑦⑨⑦ ④	③①⑨⑧⑤ ⑩④	②④⑤④⑦ ⑨⑩	⑦⑩①③⑤ ⑩①

a) ④ b) ⑦ c) ⑧ d) ⑥

20.- Según el cuadro qué símbolo representa la P

ROTONDA	BUDISMO	PROXIMO	CAPITAL	OBSCENO
---------	---------	---------	---------	---------

Abstracto Quantum

TIEMPO: 20 MINUTOS

--	--	--	--	--

a) 0 b) 3 c) 4 d) 7

21.- Según el cuadro qué símbolo representa la Z

ESTACAR	ANTIFAZ	BIFOCAL	MALDITO	FALDERO

a) + b) ☾ c) ● d) ◆

22.- Según el cuadro qué símbolo representa la L

ESTACAR	ANTIFAZ	BIFOCAL	MALDITO	FALDERO

a) + b) ☾ c) ● d) ◆

23.- Según el cuadro qué símbolo representa la O

ESTACAR	ANTIFAZ	BIFOCAL	MALDITO	FALDERO

a) + b) ☾ c) ● d) ◆

24.- Según el cuadro qué símbolo representa la T

ESTACAR	ANTIFAZ	BIFOCAL	MALDITO	FALDERO

a) □ b) ○ c) ◎ d) ⊕

25.- Según el cuadro qué símbolo representa la R

ESTACAR	ANTIFAZ	BIFOCAL	MALDITO	FALDERO
---------	---------	---------	---------	---------



a) + b) ☾ c) ● d) ◆

26.- Según el cuadro qué símbolo representa la D

CAPITAN	COMEDIR	CAMELAR	INDULTO	EXISTIR
---------	---------	---------	---------	---------

<table border="1"> <tr><td>●</td><td>①</td><td>⑩</td><td>⑨</td><td>⑧</td></tr> <tr><td>①</td><td>⑩</td><td></td><td></td><td></td></tr> </table>	●	①	⑩	⑨	⑧	①	⑩				<table border="1"> <tr><td>⑨</td><td>⑩</td><td>①</td><td>⑥</td><td>②</td></tr> <tr><td>①</td><td>⑩</td><td></td><td></td><td></td></tr> </table>	⑨	⑩	①	⑥	②	①	⑩				<table border="1"> <tr><td>①</td><td>③</td><td>⑤</td><td>⑦</td><td>⑧</td></tr> <tr><td>②</td><td>④</td><td></td><td></td><td></td></tr> </table>	①	③	⑤	⑦	⑧	②	④				<table border="1"> <tr><td>●</td><td>④</td><td>⑩</td><td>⑨</td><td>⑤</td></tr> <tr><td>①</td><td>⑩</td><td></td><td></td><td></td></tr> </table>	●	④	⑩	⑨	⑤	①	⑩				<table border="1"> <tr><td>●</td><td>①</td><td>⑩</td><td>①</td><td>②</td></tr> <tr><td>①</td><td>③</td><td></td><td></td><td></td></tr> </table>	●	①	⑩	①	②	①	③			
●	①	⑩	⑨	⑧																																																		
①	⑩																																																					
⑨	⑩	①	⑥	②																																																		
①	⑩																																																					
①	③	⑤	⑦	⑧																																																		
②	④																																																					
●	④	⑩	⑨	⑤																																																		
①	⑩																																																					
●	①	⑩	①	②																																																		
①	③																																																					

a) ● b) ① c) ⑤ d) ①

27.- Según el cuadro qué símbolo representa la A

CAPITAN	COMEDIR	CAMELAR	INDULTO	EXISTIR
---------	---------	---------	---------	---------

<table border="1"> <tr><td>●</td><td>①</td><td>⑩</td><td>⑨</td><td>⑧</td></tr> <tr><td>①</td><td>⑩</td><td></td><td></td><td></td></tr> </table>	●	①	⑩	⑨	⑧	①	⑩				<table border="1"> <tr><td>⑨</td><td>⑩</td><td>①</td><td>⑥</td><td>②</td></tr> <tr><td>①</td><td>⑩</td><td></td><td></td><td></td></tr> </table>	⑨	⑩	①	⑥	②	①	⑩				<table border="1"> <tr><td>①</td><td>③</td><td>⑤</td><td>⑦</td><td>⑧</td></tr> <tr><td>②</td><td>④</td><td></td><td></td><td></td></tr> </table>	①	③	⑤	⑦	⑧	②	④				<table border="1"> <tr><td>●</td><td>④</td><td>⑩</td><td>⑨</td><td>⑤</td></tr> <tr><td>①</td><td>⑩</td><td></td><td></td><td></td></tr> </table>	●	④	⑩	⑨	⑤	①	⑩				<table border="1"> <tr><td>●</td><td>①</td><td>⑩</td><td>①</td><td>②</td></tr> <tr><td>①</td><td>③</td><td></td><td></td><td></td></tr> </table>	●	①	⑩	①	②	①	③			
●	①	⑩	⑨	⑧																																																		
①	⑩																																																					
⑨	⑩	①	⑥	②																																																		
①	⑩																																																					
①	③	⑤	⑦	⑧																																																		
②	④																																																					
●	④	⑩	⑨	⑤																																																		
①	⑩																																																					
●	①	⑩	①	②																																																		
①	③																																																					

a) ● b) ① c) ⑤ d) ①

28.- Según el cuadro qué símbolo representa la I

CAPITAN	COMEDIR	CAMELAR	INDULTO	EXISTIR
---------	---------	---------	---------	---------

<table border="1"> <tr><td>●</td><td>①</td><td>⑩</td><td>⑨</td><td>⑧</td></tr> <tr><td>①</td><td>⑩</td><td></td><td></td><td></td></tr> </table>	●	①	⑩	⑨	⑧	①	⑩				<table border="1"> <tr><td>⑨</td><td>⑩</td><td>①</td><td>⑥</td><td>②</td></tr> <tr><td>①</td><td>⑩</td><td></td><td></td><td></td></tr> </table>	⑨	⑩	①	⑥	②	①	⑩				<table border="1"> <tr><td>①</td><td>③</td><td>⑤</td><td>⑦</td><td>⑧</td></tr> <tr><td>②</td><td>④</td><td></td><td></td><td></td></tr> </table>	①	③	⑤	⑦	⑧	②	④				<table border="1"> <tr><td>●</td><td>④</td><td>⑩</td><td>⑨</td><td>⑤</td></tr> <tr><td>①</td><td>⑩</td><td></td><td></td><td></td></tr> </table>	●	④	⑩	⑨	⑤	①	⑩				<table border="1"> <tr><td>●</td><td>①</td><td>⑩</td><td>①</td><td>②</td></tr> <tr><td>①</td><td>③</td><td></td><td></td><td></td></tr> </table>	●	①	⑩	①	②	①	③			
●	①	⑩	⑨	⑧																																																		
①	⑩																																																					
⑨	⑩	①	⑥	②																																																		
①	⑩																																																					
①	③	⑤	⑦	⑧																																																		
②	④																																																					
●	④	⑩	⑨	⑤																																																		
①	⑩																																																					
●	①	⑩	①	②																																																		
①	③																																																					

a) ● b) ① c) ⑤ d) ①

29.- Según el cuadro qué símbolo representa la L

CAPITAN	COMEDIR	CAMELAR	INDULTO	EXISTIR
---------	---------	---------	---------	---------

<table border="1"> <tr><td>●</td><td>①</td><td>⑩</td><td>⑨</td><td>⑧</td></tr> <tr><td>①</td><td>⑩</td><td></td><td></td><td></td></tr> </table>	●	①	⑩	⑨	⑧	①	⑩				<table border="1"> <tr><td>⑨</td><td>⑩</td><td>①</td><td>⑥</td><td>②</td></tr> <tr><td>①</td><td>⑩</td><td></td><td></td><td></td></tr> </table>	⑨	⑩	①	⑥	②	①	⑩				<table border="1"> <tr><td>①</td><td>③</td><td>⑤</td><td>⑦</td><td>⑧</td></tr> <tr><td>②</td><td>④</td><td></td><td></td><td></td></tr> </table>	①	③	⑤	⑦	⑧	②	④				<table border="1"> <tr><td>●</td><td>④</td><td>⑩</td><td>⑨</td><td>⑤</td></tr> <tr><td>①</td><td>⑩</td><td></td><td></td><td></td></tr> </table>	●	④	⑩	⑨	⑤	①	⑩				<table border="1"> <tr><td>●</td><td>①</td><td>⑩</td><td>①</td><td>②</td></tr> <tr><td>①</td><td>③</td><td></td><td></td><td></td></tr> </table>	●	①	⑩	①	②	①	③			
●	①	⑩	⑨	⑧																																																		
①	⑩																																																					
⑨	⑩	①	⑥	②																																																		
①	⑩																																																					
①	③	⑤	⑦	⑧																																																		
②	④																																																					
●	④	⑩	⑨	⑤																																																		
①	⑩																																																					
●	①	⑩	①	②																																																		
①	③																																																					

a) ● b) ① c) ⑤ d) ①

30.- Según el cuadro qué símbolo representa la T

CAPITAN	COMEDIR	CAMELAR	INDULTO	EXISTIR
---------	---------	---------	---------	---------

<table border="1"> <tr><td>●</td><td>①</td><td>⑩</td><td>⑨</td><td>⑧</td></tr> <tr><td>①</td><td>⑩</td><td></td><td></td><td></td></tr> </table>	●	①	⑩	⑨	⑧	①	⑩				<table border="1"> <tr><td>⑨</td><td>⑩</td><td>①</td><td>⑥</td><td>②</td></tr> <tr><td>①</td><td>⑩</td><td></td><td></td><td></td></tr> </table>	⑨	⑩	①	⑥	②	①	⑩				<table border="1"> <tr><td>①</td><td>③</td><td>⑤</td><td>⑦</td><td>⑧</td></tr> <tr><td>②</td><td>④</td><td></td><td></td><td></td></tr> </table>	①	③	⑤	⑦	⑧	②	④				<table border="1"> <tr><td>●</td><td>④</td><td>⑩</td><td>⑨</td><td>⑤</td></tr> <tr><td>①</td><td>⑩</td><td></td><td></td><td></td></tr> </table>	●	④	⑩	⑨	⑤	①	⑩				<table border="1"> <tr><td>●</td><td>①</td><td>⑩</td><td>①</td><td>②</td></tr> <tr><td>①</td><td>③</td><td></td><td></td><td></td></tr> </table>	●	①	⑩	①	②	①	③			
●	①	⑩	⑨	⑧																																																		
①	⑩																																																					
⑨	⑩	①	⑥	②																																																		
①	⑩																																																					
①	③	⑤	⑦	⑧																																																		
②	④																																																					
●	④	⑩	⑨	⑤																																																		
①	⑩																																																					
●	①	⑩	①	②																																																		
①	③																																																					

a) ⑥ b) ① c) ② d) ①

31.- Según el cuadro qué símbolo representa la M

LIMOSNA	MITIGAR	VACILAR	MANDATO	PLEGADO
---------	---------	---------	---------	---------

--	--	--	--	--

a) ✂️ b) 🌀 c) 😊 d) •

32.- Según el cuadro qué símbolo representa la T

LIMOSNA	MITIGAR	VACILAR	MANDATO	PLEGADO
---------	---------	---------	---------	---------

--	--	--	--	--

a) ✨ b) 🌀 c) 😊 d) •

33.- Según el cuadro qué símbolo representa la C

LIMOSNA	MITIGAR	VACILAR	MANDATO	PLEGADO
---------	---------	---------	---------	---------

--	--	--	--	--

a) ✨ b) 🌀 c) 😊 d) •

34.- Según el cuadro qué símbolo representa la N

LIMOSNA	MITIGAR	VACILAR	MANDATO	PLEGADO
---------	---------	---------	---------	---------

--	--	--	--	--


a) ✨ b) 🌀 c) 😊 d) •

35.- Según el cuadro qué símbolo representa la E

LIMOSNA	MITIGAR	VACILAR	MANDATO	PLEGADO
---------	---------	---------	---------	---------

Abstracto Quantum

TIEMPO: 20 MINUTOS



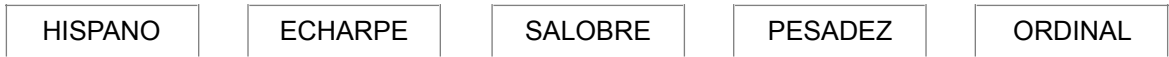
a) ✨ b) 🌀 c) 😊 d) ●

36.- Según el cuadro qué símbolo representa la P



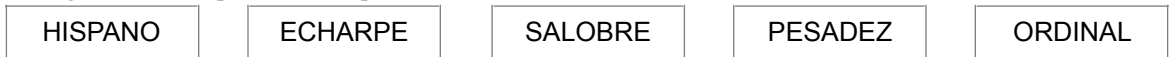
a) 🦴 b) 😊 c) 🔔 d) 📞

37.- Según el cuadro qué símbolo representa la N



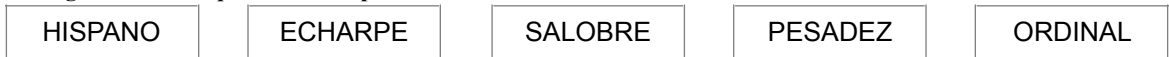
a) 🦴 b) ■ c) 🔔 d) 📞

38.- Según el cuadro qué símbolo representa la R



a) ✂ b) 😊 c) 🔔 d) 📞

39.- Según el cuadro qué símbolo representa la E



a) ✂ b) 😊 c) 🔔 d) 📞

40.- Según el cuadro qué símbolo representa la A

HISPANO	ECHARPE	SALOBRE	PESADEZ	ORDINAL

- a) ✂ b) 😊 c) 🔔 d) 📞
